

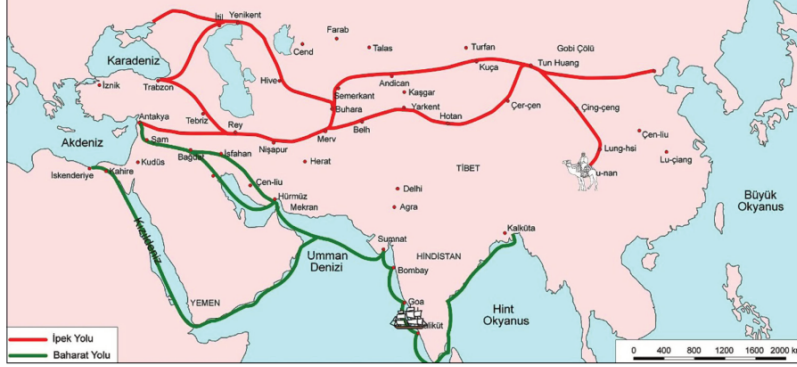
## » SOSYAL BİLGİLER

DENEME 1

ZCOM serisi

"Zoom"la başarıya odaklan!

1. Aşağıdaki haritada tarihî önemi olan ticaret yolları verilmiştir:



Haritadan hareketle aşağıdaki ifadelerden hangisine ulaşamaz?

- A) Baharat Yolu limanlardan geçerek Akdeniz'e ulaşır.
- B) İpek Yolu Orta Asya üzerinden Karadeniz'e ulaşmıştır.
- C) Baharat Yolu Coğrafi Keşiflerle önemini kaybetmiştir.
- D) Akdeniz limanları Baharat Yolu için önem taşır.

2. Aşağıda Emeviler ile Abbasilere ait bazı bilgiler verilmiştir.

“

### Emeviler (661 - 750)

- Kurucusu: Muaviye Bin Ebusüfyan
- Merkez: Şam
- Muaviye'den itibaren halifelik babadan oğula geçmeye başlamış, böylece yönetim şekli saltanata dönüştürülmüştür.
- Emeviler, Arapları üstün gören bir yaklaşıma sahip olmuşlardır.
- Emeviler Dönemi'nde Anadolu, Kafkasya, Maveraünnehir ve Türkistan'a seferler yapılmıştır. Türkişler Emevilere karşı mücadele etmişlerdir.
- İlk İslam parası olan dinar bastırılmıştır.
- Arapça resmî dil hâline getirilmiştir.
- Halife Velid Dönemi'nde İspanya fethedilmiştir.

”

“

### Abbasilere (750 - 1258)

- Kurucusu: Ebu'l Abbas Abdullah
- Merkez: Bağdat
- Arap devleti anlayışı yerine, İslam devleti özelliği gösterilmiştir.
- Müslümanlara eşit davranmaya çalışılmıştır.
- Eğitime önem verilmiş; okullar, medreseler ve çok sayıda kütüphane açılmıştır.
- Bilginler ve sanatçılar korunmuş, desteklenmiştir.
- Sadece Türklerin yerleştirildiği şehirler kurulmuştur.

”

Verilen bilgilere göre;

- I. Emeviler ile Abbasilere devlet merkezleri aynıdır.
- II. Emeviler ırkçı bir politika takip etmiştir.
- III. Emeviler Türklerle olumlu ilişkiler kurmuşlardır.
- IV. Abbasilere bilimsel faaliyetlere önem vermiştir.

yargılarından hangileri doğrudur?

- A) I ve III
- B) I ve IV
- C) II ve III
- D) II ve IV

3. İslamiyet'in kabulü ile birlikte Türk topluluklarında bazı alanlarda değişim yaşanmıştır. Bu değişimlerden bazıları şunlardır:

- I Hükümdarlar sultan unvanını kullanmışlardır.  
 II Yerleşik hayata geçiş hızlanmıştır.  
 III Çeşitli şehirlerde medreseler açılmıştır.

Verilen değişimler ilgili olduğu alanlarla aşağıdakilerin hangisinde doğru eşleştirilmiştir?

	Siyasi	Sosyal	Kültürel
A)	I	II	III
B)	III	II	I
C)	II	III	I
D)	I	III	II

4.

Millî birlik ve beraberliğimizi kuvvetlendiren bazı unsurlar vardır. Bunlardan ..... birlik ve beraberliğimizi sağlayan iletişim aracı iken ..... asırlardır kurmuş olduğumuz devletlerin insanlık tarihine katkıları ile ilgilidir. Şehirleşme ile başlayan konut tipleri de toplumumuzun kültürünü yansıtan ..... anlayışına uygun örneklerdir.

Aşağıdaki kavramlardan hangisi verilen parçada boş bırakılan yerlerden herhangi birine getirilemez?

- A) dil                                      B) tarih                                      C) mimari                                      D) din

5. Aşağıda bazı kalıp yargı örnekleri verilmiştir:

- I. Zenciler fakir insanlardır.  
 II. Köylüler medeni davranamazlar.  
 III. Ev işlerini yapmak kadınların görevidir.

Bu kalıp yargılar ilgili olduğu alanlarla aşağıdakilerin hangisinde doğru eşleştirilmiştir?

	I	II	III
A)	Din	İrk	Kültür
B)	Cinsiyet	Din	İrk
C)	İrk	Kültür	Cinsiyet
D)	Kültür	Cinsiyet	Din

6.



“Senin üzerinde halkın üç hakkı var: Birincisi ülkenin parası temiz kalmalı, onun ayarını korumayı bil. İkincisi yasaları adaletle uygula. Birinin diğerine tahakküm etmesine, baskı kurmasına izin verme. Üçüncüsü yol kesicileri ve haydutları kaldır.”

**Metne göre Yusuf Has Hacip'in devlet yöneticilerine aşağıdakilerin hangisiyle ilgili tavsiyede bulunduğu söylenemez?**

- A) Güçlü ordular kurmaları  
B) Ekonomiyi önemsemeleri  
C) Güvenliğe önem vermeleri  
D) Halka adil olarak davranmaları

7.

Orta Asya'da Altay Dağlarında yapılan bir kazıda Hunlara ait olduğu tespit edilen saban demirleri, orak, at heykeli, altın para ve kemer tokaları bulunmuştur.

**Bu metinde Hunların aşağıdaki alanların hangisinde faaliyet gösterdiklerine ilişkin kanıt yoktur?**

- A) Tarım  
B) Dokumacılık  
C) Madencilik  
D) Hayvancılık

8.



Kervansaray



Medrese



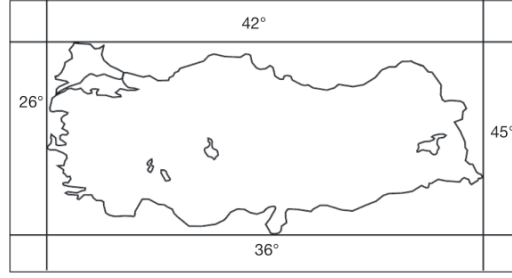
Kümbet

İlk Türk-İslam devletlerinde yapılan önemli bayındırlık eserlerinin görselleri yukarıda verilmiştir.

**Bu görsellerle ilgili olduğu alanlar eşleştirildiğinde aşağıdakilerden hangisi dışarıda kalır?**

- A) Anıt mezar  
B) Eğitim  
C) Ticaret  
D) Sağlık

9. Aşağıda Türkiye'nin matematik konumunu gösteren harita yer almaktadır.



**Bu haritaya göre Türkiye'nin matematik konumuyla ilgili verilen aşağıdaki bilgilerden hangisi yanlıştır?**

- A) Konum olarak Ekvator'un kuzeyinde yer alır.
- B) En batısı ile Griniç arasında 45 meridyen yayı vardır.
- C) En güneyi ile Ekvator arasında 36 paralel dairesi vardır.
- D) Doğusu ile batısı arasında 76 dakikalık zaman farkı vardır.

10.



Orman




Maki



Bozkır

**Görselleri verilen bitki örtüleri aşağıdakilerin hangisinde iklim tipleriyle doğru eşleştirilmiştir?**



- |    |           |           |           |
|----|-----------|-----------|-----------|
| A) | Karadeniz | Karasal   | Akdeniz   |
| B) | Karasal   | Akdeniz   | Karadeniz |
| C) | Karadeniz | Akdeniz   | Karasal   |
| D) | Akdeniz   | Karadeniz | Karasal   |

## » SOSYAL BİLGİLER

### DENEME 2

# ZCOM

"Zoom"la başarıya odaklan!

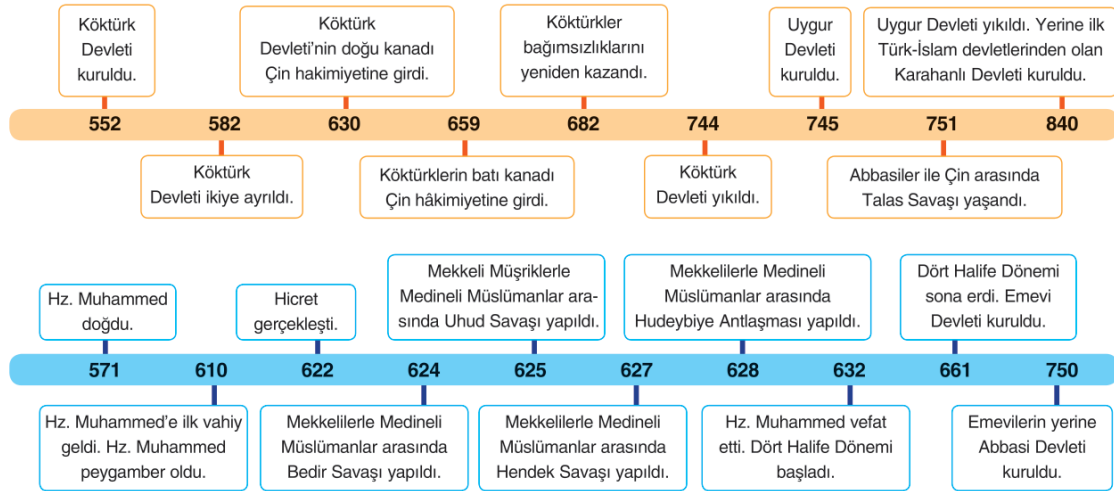
1. Araplar ve Çinliler arasındaki Talas Savaşı'nda (751) Karluk ve Yağma Türkleri, Arapların yanında yer almışlar ve savaşı Arapların kazanmasını sağlamışlardır. Aşağıda Talas Savaşı sonucunda yaşanan gelişmeler verilmiştir:

- Orta Asya'nın Çin egemenliğine girmesi engellenmiştir.
- Türkler kitleler hâlinde İslamiyet'i kabul etmeye başlamışlardır.
- Esir alınan Çinlilerden kâğıt yapma tekniği öğrenilmiştir.
- Türklerle Araplar arasındaki savaşlar sona ermiş ve iki taraf arasında dostluk dönemi başlamıştır.

Verilen gelişmelerin ilgili olduğu alanlar aşağıdakilerin hangisinde doğru belirtilmiştir?

	I	II	III	IV
A)	Siyasi	Dinî	Teknik	Siyasi
B)	Dinî	Siyasi	Teknik	Dinî
C)	Teknik	Kültürel	Siyasi	Dinî
D)	Siyasi	Siyasi	Dinî	Teknik

2. İslam dünyasında yaşanan gelişmelere paralel olarak aynı dönemde Türk dünyasında da önemli gelişmeler yaşanmıştır. Orta Asya ve Arabistan'da yaşanan bu gelişmeler aşağıdaki eş zamanlı tarih şeridi üzerinde gösterilmiştir.



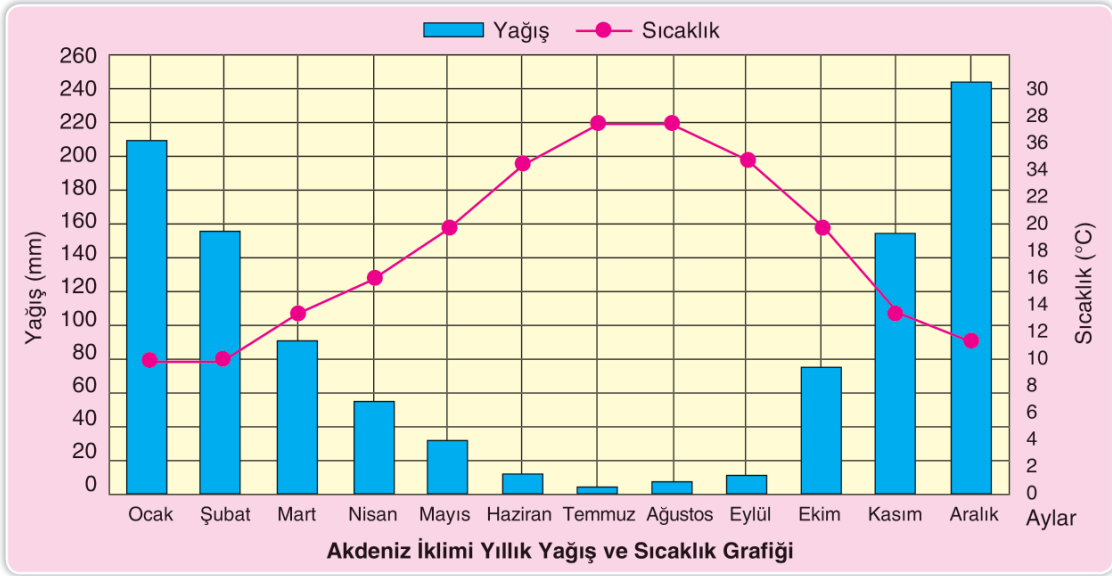
Tarih şeritlerinde verilen bilgilerden hareketle;

- Hicret olayı ile birlikte Türkler arasında İslamiyet yayılmaya başladı.
- Hz. Muhammed vefat ettiğinde Orta Asya'da Köktürk Devleti vardı.
- Uygur Devleti ile Abbasi Devleti farklı bölgelerde 5 yıl arayla kuruldu.
- Emeviler zamanında Çinlilerle Araplar arasında Talas Savaşı yaşandı.

İfadelerinden hangilerine ulaşılabilir?

- A) I ve II      B) I ve IV      C) II ve III      D) III ve IV

3.



Verilen grafiğe göre Akdeniz iklimiyle ilgili aşağıdakilerden hangisi söylenemez?

- A) Kış mevsiminde genelde kar yağışları görülür.
- B) Sıcaklık değerleri genelde 9°C'nin üzerindedir.
- C) Sıcaklıkların en yüksek olduğu aylar temmuz ve ağustostur.
- D) Yağışların en az olduğu dönem yaz mevsimine denk gelen aylardır.

4.

Ekvator ikliminde ağaç bol olduğu için ahşap evler tercih edilir. Ekvator bölgesinde yaşayanlar bütün besinlerini bu ormanlardan sağlarlar. Buralarda kahve, muz, kakao gibi ürünler yetiştirilir. Ayrıca sürekli yaz mevsimi yaşandığından insanlar ince elbiseler giymeyi tercih ederler.

**Parçada Ekvator ikliminin insan yaşantısına aşağıdaki alanların hangisiyle ilgili etkisine kant yoktur?**

- A) Giyim tipi
- B) Konut tipi
- C) Beslenme
- D) Ulaşım

5.

Kültürel bağlar Türk toplumunu bir arada ve güçlü tutar. Bayram, düşün ve asker uğurlamaları ile sevinçleri paylaşmak; ayrılık, hastalık ve cenaze zamanlarında üzüntüleri paylaşmak Türk toplumunu bir arada tutan önemli değerlerdir.

Verilen parçada kültürün aşağıdaki özelliklerinden hangisine değinilmemiştir?

- A) Toplumsal birliğe katkı sağlamasına
- B) İnsanları birbirine yakınlaştırmasına
- C) Uzun zaman sonucunda oluşmasına
- D) Birlik ve beraberliği kuvvetlendirmesine

6. Aşağıda nüfusu yoğun olan bazı illerimizin nüfus yoğunluğunu etkileyen faktörler verilmiştir:

I Rize’de çayın bol miktarda yetiştirilmesi

II Batman’da petrol üretimi yapılması

III Ankara’nın ülkenin başkenti olması

**Buna göre bu şehirlerin nüfus yoğunluğunu etkileyen faktörlerin ilgili olduğu alanlar aşağıdakilerin hangisinde doğru belirtilmiştir?**

	I	II	III
A)	İklim	Su kaynakları	Sanayi
B)	Hizmet	Hayvancılık	Ulaşım
C)	Sanayi	Bitki örtüsü	Ticaret
D)	Tarım	Madencilik	Siyasî

7.

“

Uygurlar, önceki Türk devletlerinden farklı olarak Mani dinini kabul etmiştir. Mani dini savaşmayı ve hayvan eti yemeyi yasaklamıştır. Bu dinin etkisiyle Uygurlarda yerleşik yaşama geçilmiş ve tarımsal faaliyetler gelişmiştir. Ayrıca saraylar, evler ve tapınaklar yapılmıştır.

”

**Buna göre din değişikliğinin Uygurlara etkisi ile ilgili aşağıdakilerden hangisi söylenemez?**

- A) Savaş yetenekleri azalmıştır. B) Zirai faaliyetler artmıştır.  
C) Şehirleşme başlamıştır. D) Madencilik gelişmiştir.

8. Araplar İslamiyet’ten önce kabileler hâlinde yaşıyorlardı. Kabileler arasında su kaynaklarının azlığı, gıda sıkıntısı gibi nedenlerle rekabet yaşanıyor ve kan davaları meydana geliyordu.

**Verilen bilgilere göre İslamiyet’ten önce Araplar ile ilgili aşağıdakilerden hangisi söylenebilir?**

- A) Toplumda sınıf ayrımı vardır. B) Ekonomileri ticarete dayanır.  
C) Aralarında siyasi birlik yoktur. D) Puta tapıcılık çok yaygındır.

9. Hasan Bey önceleri okulunda öğretmenlik yaparken daha sonra aynı okulda müdürlük yapmaya başlamıştır.

**Buna göre Hasan Bey ile ilgili;**

- I. Görev yeri değişmiştir.
- II. Yeni bir rol üstlenmiştir.
- III. Sorumlukları değişmiştir.
- IV. Rol karmaşası yaşamıştır.

**yargılarından hangilerine ulaşılabilir?**

- A) I ve II                      B) I ve IV                      C) II ve III                      D) III ve IV

10. Aşağıda meridyen yaylarını gösteren dünya modeli verilmiştir.



**Verilen şekilden hareketle meridyenlerle ilgili aşağıdaki çıkarımlardan hangisine ulaşamaz?**

- A) Kuzey ve güney kutup noktalarında birleşir.
- B) Aralarındaki mesafe kutuplara doğru azalır.
- C) Kuzey - güney doğrultusunda uzanırlar.
- D) İki meridyen arası zaman farkı 4 dakikadır.



## » SOSYAL BİLGİLER

### DENEME 3

# ZCOM

"Zoom"la başarıya odaklan!

1. Aşağıdaki Eskimo çocuğu kutup ikliminin bazı özellikleri hakkında bilgiler vermiştir.

Bizler kışın buzdan ve balina kemiğinden yapılmış iglo denilen kubbeli evlerde, yazın ise çadırlarda yaşarız.

Uzak yerlere gidebilmek için köpeklerin çektiği kızakları kullanırız.



Temel yiyeceklerimiz balık ve Ren geyiğidir. Genellikle hayvan derisinden yapılmış kürklü ve kalın kıyafetler giyeriz.

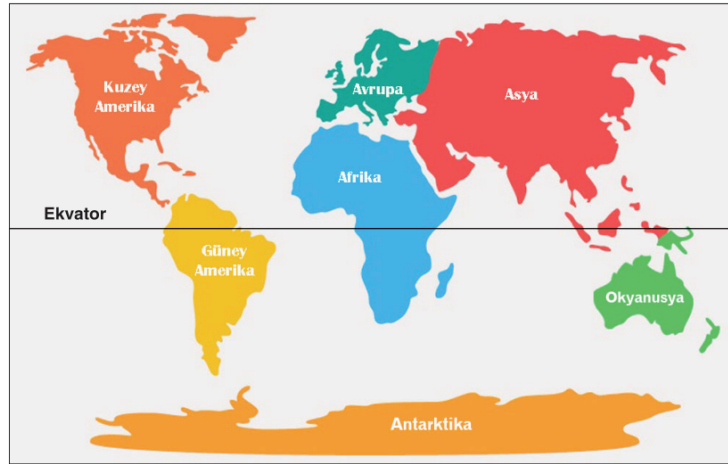
**Verilen bilgide kutup ikliminin insan yaşantısına;**

- I. Barınma
- II. Ulaşım
- III. Turizm
- IV. Giyim
- V. Ticaret

**alanlarının hangilerindeki etkisinden bahsedilmiştir?**

- A) I ve II                      B) III ve V                      C) I, II ve IV                      D) III, IV ve V

2. Aşağıda Dünya kıtalar haritası verilmiştir.



**Buna göre aşağıdaki kıtalardan hangisinin hem kuzey yarım kürede hem de güney yarım kürede toprağı bulunmaktadır?**

- A) Kuzey Amerika                      B) Güney Amerika  
C) Antarktika                      D) Avrupa

3.

“

Türklerin Anadolu'daki etkinliğinin artması üzerine Bizans, Avrupa Hristiyan ülkelerinden yardım istedi. Bu çağrıya destek veren Papa hem Müslümanların elindeki kutsal yerleri (Kudüs, Antakya vb.) almak hem de Hristiyanlığı yayarak gücünü artırmak istiyordu. Senyörler de Türkleri Anadolu'dan atıp Doğu'nun zenginliklerini ele geçirmek ve zengin olmak istiyordu. Bu amaçlarla sekiz kez Haçlı Seferi yapıldı.

”

**Verilen parçada Haçlı Seferlerinin;**

- I. Siyasi
- II. Dinî
- III. Ekonomik
- IV. Teknik

**sebeplerinden hangileri ile ilgili kanıt bulunmaktadır?**

- A) Yalnız I                      B) III ve IV                      C) II ve IV                      D) I, II ve III

4.

Malazgirt Savaşı'nın ardından Anadolu'nun çeşitli bölgelerinde Saltuklular, Artuklular, Danişmentliler, Mengücekliler gibi Türk beylikleri kurulmuştur. Bu beylikler kuruldukları bölgelerde Türk İslam kültürünün yansımaları olan cami, medrese, kervansaray, bedesten, köprü, darüşşifa, han, hamam gibi çok sayıda yapı inşa etmişlerdir. Doğudan gelen konargöçer Türkmenleri fethedilen bölgelerdeki Hristiyanlara zarar vermeden boş arazilere yerleştirmişler, Anadolu'daki küçük yerleşim yerlerini büyük Türk şehirleri hâline getirmişlerdir. Ayrıca bu beylikler, başta Bizans ve Haçlılar tarafından olmak üzere Türk İslam dünyasına yönelen tüm saldırılar karşısında kalkan görevi üstlenmişlerdir.

**Buna göre Anadolu'da kurulan Türk beylikleri ile ilgili aşağıdakilerden hangisi söylenemez?**

- A) İmar faaliyetlerine önem vermişlerdir.
- B) Anadolu'nun Türkleşmesini sağlamışlardır.
- C) Anadolu'da dinî birlikteliği oluşturmuşlardır.
- D) İslam dünyasını saldırılardan korumuşlardır.