

Türkçe : 15 Soru
 Matematik : 15 Soru
 Hayat Bilgisi : 10 Soru
 İngilizce : 5 Soru

Toplam
45
SORU

2. SINIF



DENEME
SINAVI
1

Adı Soyadı:
 Okulu:
 Sınıfı/Şubesi:
 Numarası:



merakli zihinler

Ad Soyad :

Türkçe

1	A	B	C
2	A	B	C
3	A	B	C
4	A	B	C
5	A	B	C
6	A	B	C
7	A	B	C
8	A	B	C
9	A	B	C
10	A	B	C

Matematik

1	A	B	C
2	A	B	C
3	A	B	C
4	A	B	C
5	A	B	C
6	A	B	C
7	A	B	C
8	A	B	C
9	A	B	C
10	A	B	C

Hayat Bilgisi

1	A	B	C
2	A	B	C
3	A	B	C
4	A	B	C
5	A	B	C
6	A	B	C
7	A	B	C
8	A	B	C
9	A	B	C
10	A	B	C

İngilizce

1	A	B	C
2	A	B	C
3	A	B	C
4	A	B	C
5	A	B	C
6	A	B	C
7	A	B	C
8	A	B	C
9	A	B	C
10	A	B	C



Mobil Optik
Okuma
Uygulaması

Optik No
18

<input type="radio"/>	<input type="radio"/>	<input type="radio"/>	<input type="radio"/>	<input type="radio"/>	<input type="radio"/>	<input type="radio"/>	<input type="radio"/>	<input type="radio"/>	<input type="radio"/>
<input type="radio"/>	<input type="radio"/>	<input type="radio"/>	<input type="radio"/>	<input type="radio"/>	<input type="radio"/>	<input type="radio"/>	<input type="radio"/>	<input type="radio"/>	<input type="radio"/>

FERNUS

MOD PRO

2. Sınıf

TÜRKÇE



1.

Göklerin ay yıldızı,
Rengine pek yaraşmış.
Bu yurdun oğlu, kızı,
Senin için savaşmış.

Verilen dörtlüğün konusuna uygun görsel aşağıdakilerden hangisidir?



2.



Verilen görsellerde aktarılan olaylar aşağıdakilerin hangisinde oluş sırasına göre sıralanmıştır?

A) 2-4-1-3 B) 4-3-2-1 C) 3-4-2-1

3.



Verilen sözcüklerin eş anlamlılarından hangisinin harf sayısı daha fazladır?

A) B) C)

4.

Satır sonuna sığmayan aşağıdaki sözcüklerden hangisi **yanlış** bölünmüştür?



2. Sınıf

TÜRKÇE



5. Aşağıdaki tabloda verilen eş anlamlı sözcükler eşleştirildikten sonra boşta kalan sözcükler boyanacaktır.

anı	okul	soru	macera
mektep	cevap	hatıra	serüven

Buna göre tablonun görüntüsü aşağıdakilerden hangisi gibi olur?

- A)

- B)

- C)

6.

	Ankara	•	•	1	
	Aksaray	•	•	2	
	Adana	•	•	3	

Verilen sözcükler sözlük sıralarına uygun rakamlarla eşleştirildiğinde aşağıdaki şekillerden hangisi oluşur?

- A)
- B)
- C)

7. Yandaki sözcüklerden yazımı doğru olanın altındaki çiçeğe konacağım.

- eşek 1
- herkez 2
- biskivit 3

Buna göre arı kaç numaralı çiçeğe konacaktır?

- A) **1** B) **2** C) **3**

2. Sınıf

TÜRKÇE



8. Aşağıdaki tabloda bazı sözcüklerin sözlükte buldukları sayfa numaraları verilmiştir.



Sözcük	Bulduğu Sayfa
kasım	86
?	89
kazak	95

Buna göre soru işareti yerine aşağıdaki sözcüklerden hangisi yazılamaz?

- A) kapı B) katı C) kayısı

9.



Selma



pamuk



cumhuriyet ilkokulu



otobüs

Sembollerle belirtilen ifadelerden hangilerinin yazımı yanlıştır?

- A) ■ ve ★ B) ▲ ve ★
C) ● ve ■

10. Aşağıdaki sözcükler belli bir kurala göre sıralanmıştır.



Buna göre sevimli tırtılda “?” ile gösterilen yere aşağıdaki sözcüklerden hangisi getirilebilir?

- A) bisküvi B) karpuz C) tilki



2. Sınıf

TÜRKÇE




11.



Bu görselin kullanıldığı bir metnin konusu aşağıdakilerden hangisi olabilir?

- A) Okul Sevgisi B) Kitap Sevgisi
C) Doğa Sevgisi

12.



Numaralanmış heceler aşağıdaki sıralamalardan hangisi ile yazıldığında anlamlı bir sözcük oluşur?

- A) 4-3-1 B) 4-1-3 C) 5-2-4

13.

Berat, sınıflarındaki yazı tahtasına alfabemizde bulunan tüm harfleri yazmak istemiştir.



Berat

Berat'ın yazmayı unuttuğu harflerle aşağıdaki sözcüklerden hangisinin zıt anlamısı oluşturulabilir?

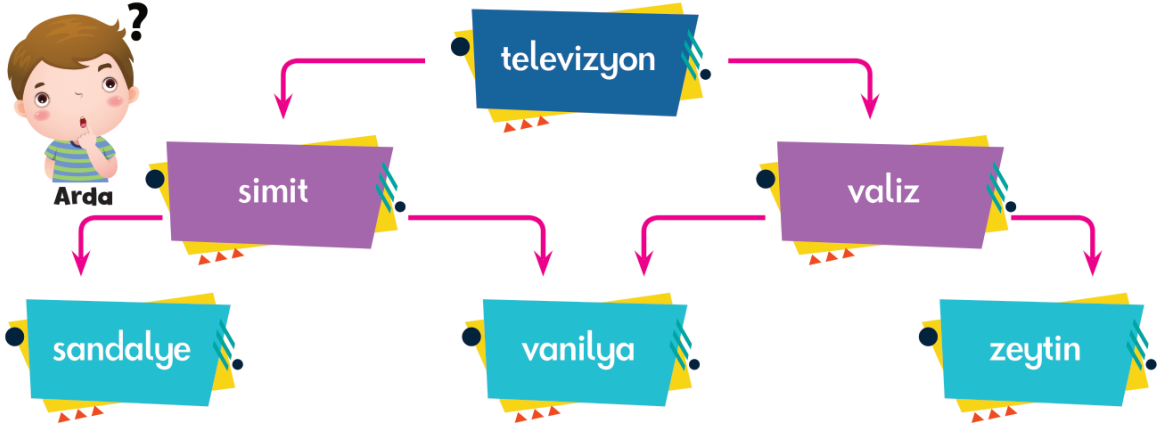
- A) soğuk B) artı C) zayıf

2. Sınıf

TÜRKÇE



14.



Arda şemadaki “televizyon” sözcüğünden başlayıp alfabetik sırada önce yer alan sözcükleri takip ederse hangi sözcüğe ulaşır?

A) sandalye

B) vanilya

C) zeytin

15.

Öğretmeni, Murat’tan tahtaya zıt anlamlı sözcükler yazmasını istemiştir. Murat bulduğu her zıt anlamlı sözcük çifti için 5 puan kazanacaktır. Murat aşağıdaki sözcük çiftlerini yazmıştır.



Murat

Buna göre Murat bu görevden toplam kaç puan kazanmıştır?

A) 30


B) 25

C) 20



2. Sınıf

MATEMATİK




Verilen kalemlerin sayısını en yakın tahmin eden çocuk aşağıdakilerden hangisidir?

- A) 2 düzine 
- B) 3 deste 
- C) 4 deste 




Kenan'ın 5 kalemı vardır.

Kaç kalem daha alırsa Kenan'ın 1 düzine kalemı olur?

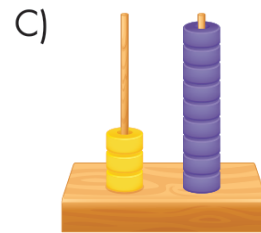
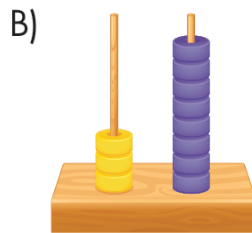
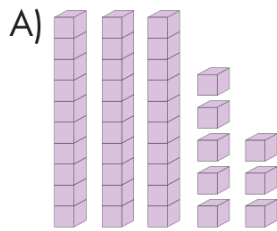


Ali; okul kantinindeki sırada baştan onuncu, sondan sekizincidir.

Buna göre sırada kaç kişi vardır?



Verilen elmaların sayısı aşağıdakilerden hangisinde **yanlış** gösterilmiştir?

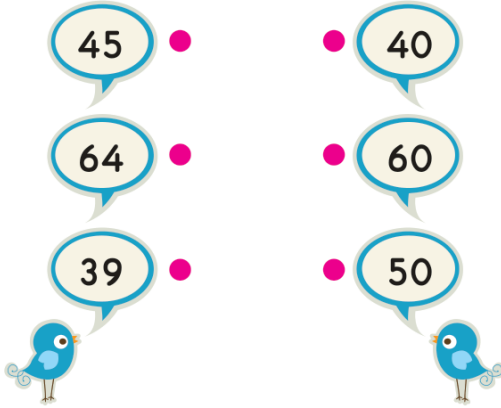


2. Sınıf

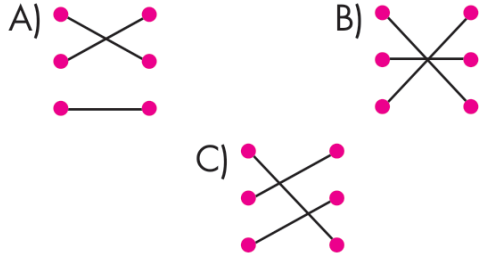
MATEMATİK



5.



Verilen sayılar ile yakın oldukları onluklar eşleştirildiğinde aşağıdaki şekillerden hangisi oluşur?



6.



Mina 6'dan başlayarak ileriye doğru beşer beşer sayıyor. Yedinci sayıyı söyledikten sonra üçer üçer saymaya devam ediyor.

Buna göre Mina'nın söylediği on birinci sayı kaçtır?

- A) B) C)

7. Aşağıdakilerin hangisinde nesne sayısı onluk ve birliklerine doğru ayrılmıştır?

A) B) C)



2. Sınıf

MATEMATİK



8.

Üç günde kitabımın
47 sayfasını okudum.

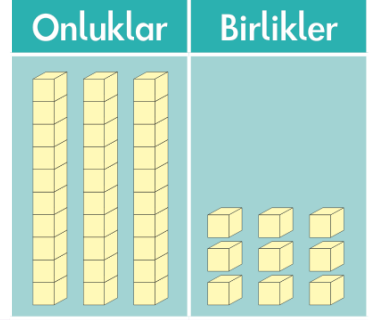


Sevda

Sevda kaç sayfa daha okursa okunan sayfa sayısı sadece 6 onluktan oluşan bir doğal sayıya eşit olur?

- A) 11 B) 12 C) 13

9.

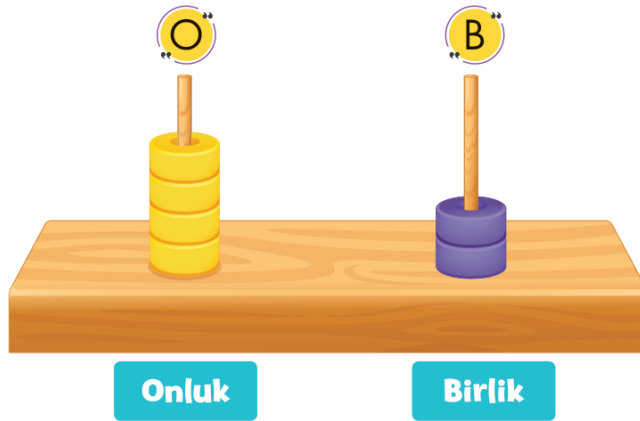


Sayı	■	
Basamak değeri	30	●

Verilen tablodaki ■ ve ● yerine yazılması gereken sayılar aşağıdakilerin hangisinde doğru belirtilmiştir?

- | | | |
|----|----|----|
| | ■ | ● |
| A) | 30 | 9 |
| B) | 9 | 39 |
| C) | 39 | 9 |

10.




Verilen sayı abaküsündeki onluktardan 3, birliklerden 2 pul çıkarıldığında aşağıdaki sayılardan hangisi oluşur?

- A) 10 B) 20 C) 30

2. Sınıf

MATEMATİK



Verilen bloklarla modellenen sayının onlar ve birler basamağındaki rakamların yerleri değiştiriliyor.

Buna göre oluşan yeni sayının okunuşu aşağıdakilerden hangisidir?

- A) altmış üç B) otuz altı
C) otuz üç

12.



Benim 1 düzine boya kalemim var.


Benim 3 deste boya kalemim var.



Buna göre Serhat ile Nisa'nın boya kalemlerinin toplamı kaçtır?

- A) 32 B) 40 C) 42

13.



Tarık, elindeki 4 boncuğu yanındaki sayı abaküsüne ekleyerek yeni bir sayı oluşturacaktır.

Buna göre aşağıdaki sayılardan hangisi Tarık'ın oluşturabileceği sayılardan biri **olamaz**?

- A) 47 B) 66 C) 75

