

Ad-Soyad: Sınıf: No.:

Harf Bilgisi / Ünlü Ünsüz Harfler

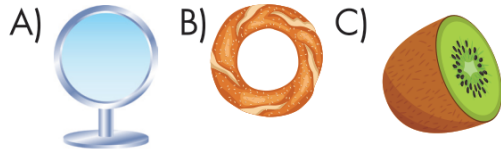
2. Sınıf

1. Ağızımızdan çıkan sesleri gösteren işaretlere "harf" denir.

Tanıma göre aşağıdakilerden hangisi harf **değildir**?

A) **A** B) **EK** C) **R**

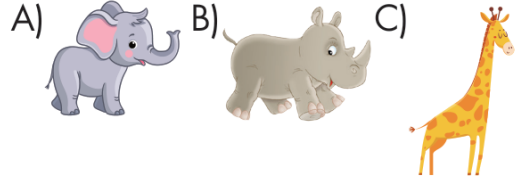
2. Aşağıdaki görsellerden hangisinin karşılıdığı sözcük ünsüz harf ile başlayıp ünlü harf ile biter?



3. Aşağıdaki sözcüklerin hangisi alfabemizin 5. harfi ile başlayıp 29. harfi ile bitmektedir?

A) Deney B) Deniz C) Enkaz

4. Aşağıdaki hayvanlardan hangisinin adı alfabemizin son harfiyle başlar?



5. **BARIŞ → ŞARKI → IRMAK → KAH-VERENGİ**

Bir grup oyuncu kelime oyunu oynamaya karar veriyor. Oyunun kuralı gereği sırası gelen oyuncu, bir önceki arkadaşının söylediği kelimenin son harfiyle başlayan bir sözcük söyleyecektir.

İlk dört oyuncunun söylediği sözcükler yukarıda sırasıyla verilmiştir.

Buna göre aşağıdakilerden hangisi beşinci oyuncunun söyleyebileceği bir sözcük olabilir?

A) Katı B) İnsan C) Kırmızı



Merakli'nin sorusu

6. Aşağıda bazı harfler geometrik şekillerle eşleştirilerek verilmiştir.



Buna göre harflere ait şekiller kullanarak oluşturulacak dizilimlerden hangisi anlamlı bir sözcük oluşturur?

A)  B)  C) 



Ad-Soyad: Sınıf: No:

Nesne Sayısı Yazma / Onluk ve Birliklere Ayırma

2. Sınıf

1.



“Otuz altı” sayısı rakamlarla yazılmak istenildiğinde aşağıdaki rakamlardan hangisi **kullanılmaz**?

- A) 6 B) 4 C) 3

2.

Aşağıdaki sayılardan hangisi onluk ve birliklerine **yanlış** ayrılmıştır?

- A) 27 → 2 birlik + 7 onluk
B) 65 → 6 onluk + 5 birlik
C) 48 → 8 birlik + 4 onluk

3.

Aşağıdaki sayılardan hangisi, 5 onluk ve 2 birlikten oluşur?

- A) 52 B) 25 C) 22

4.



Görseldeki topların sayıları ile ilgili olarak aşağıda verilen bilgilerden hangisi doğrudur?

- A) Mavi topların sayısı diğerlerinden fazladır.
B) 7 mavi, 6 kırmızı, 5 yeşil top vardır.
C) Sayısı en az olan yeşil toptur.



Merakli'nin sorusu


5.

Ecrin, Selen ve Leyla verilen sayıları onluk ve birlik bloklarla göstermişlerdir. Aşağıdaki öğrencilerden hangisi sayıları onluk ve birlik bloklarla gösterirken yanlışlık yapmıştır?

A)



Ecrin




28

B)



Selen




19

C)



Leyla



24

2

1. HAFTA

MATEMATİK

meraklı zihinler






Ad-Soyad: Sınıfı No.:

Kendimizi Tanıtıyoruz / Bireysel Farklılıklar

2. Sınıf

1. Aşağıdaki çocuklardan hangisi fiziksel özelliklerden bahsetmiştir?

- A)  Çok sabırlıyım.
- B)  Güler yüzlüyüm.
- C)  Yeşil gözlerim var.

2. Fiziksel özellikler ile ilgili aşağıda verilen hangi ifade yanlıştır?

- A) Fiziksel engeli olan arkadaşlarımıza yardımcı olmalıyız.
- B) Uzun boylu arkadaşlarımız derslerinde daha başarılı olur.
- C) Kişilerdeki kişisel farklılıkları hoşgörü ile karşılamalıyız.

3.

Kıvırcık saçlı olmak
Yardımsaver olmak
Beyaz tenli olmak
Alıngan olmak
Mavi gözlü olmak

Yukarıdaki verilen özelliklerden kaç kişilik özelliklerimizdendir?

- A) 2 B) 3 C) 4

4.

Aşağıdaki ifadelerden hangisi doğrudur?

- A) Fiziksel farklılıkları olan insanlarla alay etmeliyiz.
- B) Herkesin ilgi ve yetenekleri ayıdır.
- C) Farklılıklar insanları özel ve eşsiz yapar.



Merakli'nin sorusu

5. 2/A sınıfı öğrencilerinden kendileri ile ilgili bir özelliklerini söylemeleri istenir. Bazı öğrencilerin ifadeleri şu şekildedir:

Esmer tenliyim.

Murat



Resim yapmayı seviyorum.

Aylin



Sarı saçlıyım.

Derya



Yardımlaşmayı severim.

Ali



Güler yüzlüyüm.

Dünya



Verilenlere göre hangi öğrenciler fiziksel özelliklerinden bahsetmemiştir?

- A) Aylin ve Murat B) Derya, Ali ve Dünya C) Aylin, Ali ve Dünya



merakli zihinler

HAYAT BİLGİSİ


1. HAFTA

3




KODLAMA BOYAMA

Etkinlik: Arıyı kovana ulaştırmak için kareleri belirlenen yönlerde sırayla boyayalım.



Etkinlik: Tavşanı havuca ulaştırmak için kareleri belirlenen yönlerde sırayla boyayalım.




Ad-Soyad: Sınıf: No.:

Hece Bilgisi / Alfabetik Sıralama

2. Sınıf

1. Defne, adı tek heceli sözcük olan bir yiyecek yemek istiyor.

Buna göre Defne aşağıdaki meyvelerden hangisini yiyebilir?



2. Aşağıdaki sözcüklerden hangisi 4 harf ve 2 heceden oluşmaktadır?

A) Saat B) Tren C) Spor

3. “Karanlık” sözcüğüyle ilgili aşağıda verilen ifadelerden hangisi yanlıştır?

A) 3 heceden oluşmuştur.
B) 8 harften oluşmuştur.
C) Ünsüz harf ile başlayıp ünlü harf ile bitmiştir.

4.




Vişne - Karpuz - Şeftali

Verilen sözcükler sözlük sırasına göre sıralandığında doğru sıralama aşağıdakilerden hangisi olur?

A) Şeftali - Karpuz - Vişne
B) Karpuz - Şeftali - Vişne
C) Karpuz - Vişne - Şeftali

5.

“M” harfinden önce ve sonra gelen harfler aşağıdakilerin hangisinde doğru verilmiştir?

A) 
B) 
C) 



Merakli'nin sorusu


6.



“Şemsiye” sözcüğü ile ilgili olarak bilgi veren çocuklardan hangisinin ifadesi hatalıdır?

A)  3 hecedir.

B)  Hecelerinden biri “si” dir.

C)  8 harften oluşmuştur.



merakli zihinler

TÜRKÇE

2. HAFTA

1

Ad-Soyad: Sınıf: No:

Deste ve Düzine

2. Sınıf

1. Aşağıda verilen bilgilerden hangisi doğrudur?


- A) Bir deste, bir düzineden fazladır.
B) Bir düzine, bir desteden iki fazladır.
C) Bir deste aynı tür nesneden 12 tane olması demektir.

2. "24" sayısı aşağıdakilerden hangisine eşittir?

- A) İki desteye
B) İki düzineye
C) Bir deste ile bir düzinenin toplamına

3. İki deste ve bir düzinenin toplamı kaçtır?

- A) 22 B) 24 C) 32



Görseldeki balonların sayısı aşağıdakilerin hangisinde doğru verilmiştir?

- A) İki düzine
B) Üç deste
C) İki deste + iki düzine



Yukarıdaki görselde var olan çiçeklerin sayısının iki düzine olması için daha kaç çiçek çizilmesi gerekir?

- A) 2 B) 5 C) 6



Merakli'nin sorusu

6.



Ziya öğretmen öğrencilerine aşağıdaki soruyu sormuştur:

"Çocuklar 2 deste ve 2 düzinenin toplamından, bir düzineyi çıkarırsak sonucu kaç buluruz?"

Buna göre öğretmenin sorusunu hangi öğrenci doğru yanıtlamıştır?

- A) Ebru: 44 B) İnci: 32 C) Ferhat: 22

2

2. HAFTA

MATEMATİK

meraklı zihinler



Ad-Soyad: Sınıfı No.:

Okula Hazırlık / Karar Alırken

2. Sınıf

1.

Çarşamba

Türkçe
Türkçe
Hayat B.
Matematik
Beden Eğ. ve Oyun
Beden Eğ. ve Oyun

Yandaki ders programına göre çantamıza hangi araç-gereci koymamıza gerek **yoktur**?

A)



B)



C)



2.

Ahmet: Sınıfla ilgili kararları sadece öğretmen alır.

Ceren: Sınıf kurallarını sınıf başkanı belirler.

Damla: Sınıfımızla ilgili karar alma sürecine hepimiz katılmalıyız.

Yukarıdaki çocuklardan hangisinin ifadesi doğrudur?

A) Ahmet

B) Ceren

C) Damla

3.

Aşağıdaki ifadelerden hangisi **yanlıştır**?

A) Okul çantamızı günlük ders programına göre hazırlamalıyız.

B) Okul çantamızı her zaman annemiz hazırlamalıdır.

C) Okulda başarılı olmak için okula hazırlıklı gitmeliyiz.

4.

- Bu konuda güzel bir fikrim var.
- Hemen söylediğimi yap.
- Senin düşüncen çok saçma
- Önerin için teşekkür ederim.

Yukarıdaki cümlelerin kaçında doğru iletişim dili kullanılmıştır?

A)1

B)2

C)3

**Merakli'nin sorusu**

5.

1. Ders	2. Ders	3. Ders	4. Ders	5. Ders	6. Ders
Hayat Bilgisi		Matematik			Beden Eğitimi ve Oyun

Berk, ders programında cuma günü bazı derslerde kullandığı araç-gereçleri belirtmiştir.

Buna göre Berk'in görsellerle belirttiği derslerin isimleri aşağıdakilerin hangisinde doğru yazılmıştır?

	2. Ders	4. Ders	5. Ders
A)	Hayat Bilgisi	Matematik	Görsel Sanatlar
B)	Matematik	Görsel Sanatlar	Müzik
C)	Türkçe	Müzik	Görsel Sanatlar



merakli zihinler

HAYAT BİLGİSİ

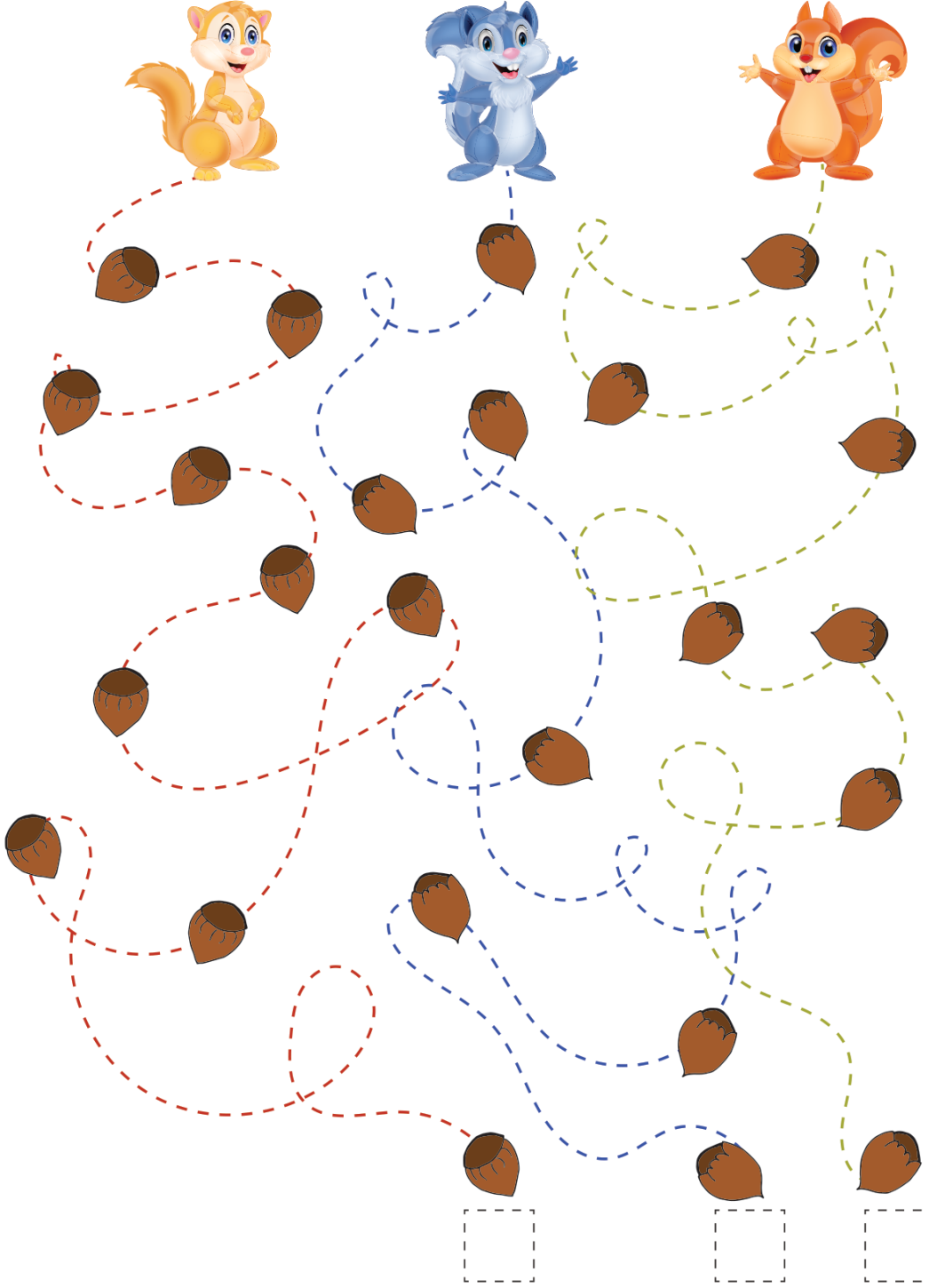
2. HAFTA

3



DOĞRU YOLU TAKİP

Etkinlik: Sincapların yol boyunca topladığı fındık sayılarını yazalım.



Ad-Soyad: Sınıf: No.:

Sözcük Anlamı / Satır Sonuna Sığmayan Kelimeler

2. Sınıf

1.

Anne, baba ve çocuklardan oluşan aileye denir.



Verilen cümlede boş bırakılan yere aşağıdaki ifadelerden hangisi yazılmalıdır?

- A) geniş aile B) çekirdek aile
C) kalabalık aile

2.




Aşağıdaki sözcüklerden hangisi satır sonuna doğru ayrılmıştır?

- A) "o-
kul "
- B) "kit-
ap "
- C) "sil-
gi "

3.

.....?.....: Zamanı ölçmeye yarayan araçtır.

Verilen tanım cümlesinde soru işareti ile belirtilen bölüme aşağıdaki görsellerden hangisini karşılayan sözcük yazılmalıdır?

- A)  B)  C) 

4.

Ankara	nokta	iz
tane	at	kum

Tablodaki sözcüklerden kaç tanesi satır sonuna geldiğinde **ayrılmaz**?

- A) 2 B) 3 C) 4



Merakli'nın sorusu

5.

Ses dalgalarını elektriksel titreşimlere çeviren cihazdır.

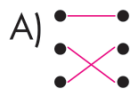
Geçtiği yerlere zarar veren taşkın su

Ayakla çevrilen, arka tekerleğinden güç alarak hareket eden iki tekerlekli taşıt

- •
• •
• •



Yukarıda verilen tanımlarla görseller eşleştirildiğinde doğru seçenek aşağıdakilerden hangisi olur?



Ad-Soyad: Sınıf: No:

Nesne Sayısını Tahmin Etme / Basamak Değerini Bulma

2. Sınıf



1.

Görseldeki nesnelerin sayısını aşağıdaki çocuklardan hangisi en yakın tahmin etmiştir?

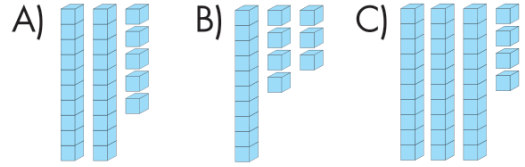


2. Buse yan sınıftaki öğrencilerin sayılarını önce tahmin etmiş, daha sonra saydığı anda öğrenci sayısının 35 olduğunu görmüştür.

Buse'nin tahminî gerçek sayıdan 5 eksik olduğuna göre tahminî kaçtır?

A) 40 B) 35 C) 30

3. Aşağıda onluk bloklarla gösterilen sayılardan hangisinin birler basamağındaki rakamın basamak değeri en fazladır?



4.



Tahtada yazılı olan sayıların hangisinde 5 rakamı, en büyük basamak değerine sahiptir?

A) 51 B) 65 C) 95



Merakli'nin sorusu

5. Eylül, kitaplığındaki kitapların sayısı ile ilgili şu bilgileri vermiştir:



- Kitaplığındaki kitapları saymadan önce sayısını tahmin ettim.
- Tahminîmdeki 9 rakamının basamak değeri 90'dır.
- Tahminîmdeki 8 rakamın basamak değeri 8'dir.
- Saydığım da kitap sayısı, tahminîmden 4 eksik çıktı.

Buna göre kitaplıktaki kitap sayısı kaçtır?

A) 98 B) 96 C) 94

2

3. HAFTA

MATEMATİK

merakli zihinler

