

3. SINIF

55

SORU

Türkçe : 15 Soru

Matematik : 15 Soru

Fen Bilimleri : 10 Soru

Hayat Bilgisi : 10 Soru

İngilizce : 5 Soru

**Toplam**

DENEME SINAVI

1

Adı Soyadı: .....

Okulu: .....

Sınıfı/Şubesi: .....

Numarası: .....

meraklı zihinler

Ad Soyad : 

Türkçe

1 A B C	11 A B C
2 A B D	12 A B C
3 A B C	13 A B C
4 A B C	14 A B C
5 A B D	15 A B C
6 A B C	
7 A B C	
8 A B D	
9 A B C	
10 A B C	

Matematik

1 A B C	11 A B C
2 A B C	12 A B D
3 A B C	13 A B C
4 A B C	14 A B C
5 A B C	15 A B D
6 A B C	
7 A B C	
8 A B C	
9 A B C	
10 A B C	

Fen Bilimleri

1 A B C
2 A B C
3 A B C
4 A B C
5 A B C
6 A B C
7 A B C
8 A B C
9 A B C
10 A B C



Mobil Optik  
Okuma  
Uygulaması

Hayat Bilgisi

1 A B C
2 A B D
3 A B C
4 A B C
5 A B D
6 A B C
7 A B C
8 A B D
9 A B C
10 A B C

İngilizce

1 A B C
2 A B C
3 A B C
4 A B C
5 A B C

Optik No  
31

○	○	○	○	○	○	○	○	○	○
○	○	○	○	○	○	○	○	○	○

FERNUS

MOD PRO

## 3. Sınıf

## TÜRKÇE



Biz okullu çocuklarız  
Hem çalışır, hem oynarız  
Kâ★ıt, k♦lem, ki■ap, de●ter  
Bizi bunlar adam eder  
Öğretmeni candan dinler  
Öğreniriz pek çok şeyler  
Biz okullu çocuklarız  
Hem çalışır, hem oynarız.  
Hasan Ali Yücel

1 ve 2. soruyu şiire göre yanıtlayalım.

1. Şiirde bazı harflerin yerine semboller kullanılmıştır.

Buna göre bu semboller aşağıdakilerin hangisinde karşılıkları harflerin alfabetik sıralamasına uygun verilmiştir?

- A) B) C)

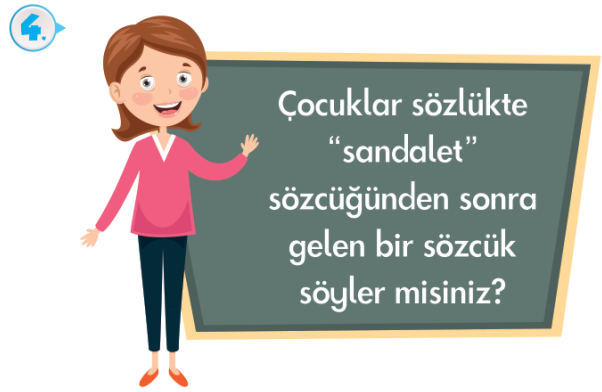
2. Aşağıdaki görsellerden hangisi şiirin konusuna uygun değildir?



3. "Kedimin ismi ünlü harf ile başlayıp ünsüz harf ile bitiyor."

Ali'nin kedisinin ismi aşağıdakilerden hangisi olabilir?

- A) İnci B) Afacan C) Havuç



Buna göre aşağıdaki yanıtlardan hangisi doğrudur?

- A) sandalye B) salıncak C) saman

5. 

1	tabiat	doğa
2	adet	tane
3	pahalı	ucuz

Numaralandırılmış sözcük ikililerinden hangisi anlam ilişkisi yönüyle diğerlerinden farklıdır?

- A) B) C)



## 3. Sınıf

## TÜRKÇE



6.

.....  
 Ailedir çocuğu,  
 Hayata hazırlayan.  
 İlk öğretmen, ilk rehber  
 Kuralları kavratan.

Anne evin her şeyi,  
 Baba güçlü direği,  
 Çocuklar kuş sesleri,  
 Huzur kaplar her yeri.

Öznur Konar

Bu şiirin başlığı aşağıdakilerden hangisi olabilir?

- A) Aile B) Öğretmen  
 C) Kuş Sesleri

7.

Aşağıdaki tabloda bazı sözcüklerin sözlükte buldukları sayfa numaraları verilmiştir.

Sözcük	Bulduğu Sayfa
?	185
keklik	181
keman	183

Buna göre soru işareti yerine aşağıdaki sözcüklerden hangisi yazılabilir?

- A) kelime B) kemal C) kenar

8.

**Bahar:** Hafta sonunu nerede geçirdin▲

**Nilgün:** Babamla beraber Bolu'da kamp yaptık.

**Bahar:** Aaa■ Çok güzel◆

**Nilgün:** Sen de haftaya bizimle gelebilirsin●

**Bahar:** Anneme sormam lazım.

Verilen cümlelerde sembollerle gösterilen yerlere gelmesi gereken noktalama işaretleri aşağıdakilerin hangisinde doğru belirtilmiştir?

	▲	■	◆	●
A)	?	!	...	?
B)	.	?	.	?
C)	?	!	.	.

9.

	A	B	C	D	E
1					
2					
3					

Soldan sağa

- “Az” sözcüğünün zıt anlamlısı.
- “Sulh” sözcüğünün eş anlamlısı.
- “Dolu” sözcüğünün zıt anlamlısı.

Bulmaca çözüldüğünde “C” sütununun görünümü aşağıdakilerden hangisi gibi olur?

A)	K	B)	O	C)	K
	R		R		A
	Ş		Ş		Ş




İspanak, kereviz, brokoli, lahana, havuç ve soğan kışın yetişen sebzelerden birkaçıdır. Bu besinler güneş ışığını daha fazla depolar; bizlere kış mevsiminde canlılık, enerji, dayanıklılık kazandırır. Vitamin açısından zengin besinlerdir. Kış mevsiminde hastalıklardan korunmanın bir yolu da kış sebzelerinden yeterince tüketmektir.

10 ve 11. soruyu metne göre yanıtlayalım.

10. Verilen metnin konusu aşağıdakilerden hangisidir?

- A) Kış mevsimi
- B) Kış sebzeleri
- C) Meyve ve sebzeler

11. Aşağıdaki görsellerden hangisi metinle ilgilidir?



12.

### ATATÜRK İLKOKULU 23 NİSAN ULUSAL EGEMENLİK VE ÇOCUK BAYRAMI KUTLAMA PROGRAMI

1. İstiklal Marşı ve saygı duruşu
2. Günün anlam ve önemini belirten konuşma
3. Şiirlerin okunması
4. Halk oyunları gösterisi
5. Ödül töreni
6. Kapanış

Tarih: 23.04.2023  
Yer: Topçu Meydanı  
Saat: 11.00



Verilen programdaki bilgilerden hareketle aşağıdakilerin hangisine ulaşılmaz?

- A) Kutlama programında ödül töreni de vardır.
- B) Kutlama, Topçu Meydanı'nda yapılacaktır.
- C) Programa yalnızca öğretmen ve öğrenciler katılacaktır.

13.

Aşağıda şekiller ile heceler eşleştirilmiştir.



Verilen hecelerden üçü kullanılarak bir sözcük oluşturulduğunda hangi şekil ile eşleştirilen hece dışarıda kalır?

- A)
- B)
- C)

































## 3. Sınıf

## TÜRKÇE




14.

 A	 B	 B	 C	 D	 E
 F	 G	 H	 H	 I	 J
 K	 L	 M	 N	 N	 O
 P	 Q	 R	 S	 T	 T
 U	 V	 W	 X	 Y	 Z

Yandaki tabloda Antik Mısır alfabesindeki harflerin Latin harflerindeki karşılıkları verilmiştir.

Buna göre Antik Mısır alfabesinde verilen aşağıdaki sözcüklerden hangisinin hece sayısı daha fazladır?



15.

Aşağıda verilen sözcük ikilileri arasındaki anlam ilişkileri “✓” ve “✗” sembolleriyle gösterilmiştir.



Buna göre aşağıdakilerin hangisinde tüm sözcük ikilileri için doğru semboller kullanılmıştır?

	bellek-hafıza	yenı-eski	çağrı-davet	seyrek-sık
A)	✓	✓	✓	✗
B)	✓	✗	✓	✗
C)	✗	✓	✗	✓



## 3. Sınıf

## MATEMATİK



1.



483



754



647

Hangi görselin altında yazan sayıda 4 rakamının basamak değeri 40'tır?

A)



B)



C)



2.

354

Yukarıdaki sayının en yakın olduğu onluk ile en yakın olduğu yüzlüğün toplamı kaçtır?

A)



B)



C)



3.



Ayşe



Eren



Mert

Yukarıdaki çocuklar ritmik sayma oyunu oynuyorlar. Mert'ten sonra sıra tekrardan Ayşe'ye geliyor.

8'den başlayıp dokuzar ritmik sayan bu çocuklardan hangisi 80 sayısını söyler?

A) Ayşe

B) Eren

C) Mert

4.



37'den başlayıp ileriye doğru altışar sayan Emin'in 5 ve 7. saymada söylediği sayıların toplamı kaçtır?

A) 146

B) 140

C) 134

5.

T K A İ P  
263 187 325 221 584

Harflerle belirtilen sayılar küçükten büyüğe sıralandığında aşağıdaki sözcüklerden hangisi oluşur?

A) TAKİP

B) PATİK

C) KİTAP

6.

“ 57A ”

Verilen sayı üç basamaklı çift sayıdır. Buna göre A yerine aşağıdakilerden hangisi yazılamaz?

A) 6

B) 3

C) 0



## 3. Sınıf

## MATEMATİK



7. Yüzler basamağı 8, onlar basamağı 3 olan en büyük sayı kaçtır?

- A) B) C)

8.

Yukarıdaki sayılarda bulunan 5 rakamlarının basamak değerleri toplamı kaçtır?

- A) 505 B) 550 C) 555



Hasan kutudaki çubukları örnekteki gibi kullanarak romen rakamlarını sırasıyla yazacaktır.

**Örnek:** I, II, III, IV, .....

Hasan'ın tüm çubukları kullanarak sırasıyla yazdığı en son sayı 10'dur.

Buna göre kutuda kaç çubuk vardı?


- A) 27 B) 28 C) 29

10.

Çözümlemiş olarak verilen sayılar doğru sayılarla eşleştirildiğinde aşağıdaki şekillerden hangisi oluşur?

- A) B) C)

11. Aşağıdaki abaküste modellenmek istenen sayının okunuşu “üç yüz elli dokuz”dur.



Buna göre otobüsteki modellemenin doğru olabilmesi için kaç pula daha ihtiyaç vardır?

- A) 9 B) 10 C) 11

## 3. Sınıf

## MATEMATİK



12



Merhaba ben Sadık. İlkokula gidiyorum. Yaşım bir rakamdır. Annemin yaşı, rakamları birbirinden farklı iki basamaklı bir doğal sayıdır. Şimdi size benim, annemin ve babamın yaşlarının basamak değerlerini karışık olarak vereceğim.



Buna göre Sadık'ın annesinin ve babasının yaşları aşağıdakilerden hangisi olabilir?

A)

Kişiler	Yaş
Annesi	47
Babası	54
Sadık	9

B)

Kişiler	Yaş
Annesi	44
Babası	59
Sadık	7

C)




Kişiler	Yaş
Annesi	49
Babası	57
Sadık	4

13

Fuat, aşağıda verilen sözcüklerin tamamını kullanarak üç basamaklı sayılar oluşturacaktır.



Buna göre abakütle gösterilen aşağıdaki sayılardan hangisini oluşturamaz?





## 3. Sınıf

## MATEMATİK



14.



Yusuf

●	0	0
1	1	1
2	2	2
3	3	3
4	4	4
5	5	5
6	6	●
7	7	7
8	8	8
9	●	9

Yusuf okul numarasını yandaki optik okuyucuya kodlamıştır. Yusuf kodlama yaparken okul numarasının yüzler ve onlar basamağındaki sayıların yerlerini değiştirerek yanlış kodlamıştır.

Buna göre Yusuf'un okul numarasının okunuşu aşağıdakilerden hangisidir?

- A) Dokuz yüz altı  
B) Altı yüz doksan  
C) Doksan altı

15.



Nihal



Nihal zarfları sırasıyla açmaktadır. Zarfta yazan ipuçlarına göre üç basamaklı bir sayı oluşmaktadır.



- Sarı zarfın içinde en büyük çift rakam yazmaktadır.
- Kırmızı zarfın içinde en küçük tek rakam yazmaktadır.
- Pembe zarfın içinde onlar basamağına yazılacak sayının basamak değerinin 20 olduğu yazmaktadır.

Yukarıda zarflarda çıkan ipuçlarına göre verilen sayı aşağıdakilerden hangisi **olamaz**?

A)



B)



C)



## 3. Sınıf

## FEN BİLİMLERİ



1.

Dünya'nın katmanları, sahip oldukları özelliklere göre gözlemlenebilen katmanlar ve gözlenemeyen katmanlar olarak ikiye ayrılır.

Buna göre aşağıdaki görsellerin hangisinde gözlemlenebilir katman sayısı daha fazladır?

A)



B)



C)



2.

- ★ Yüksek sesle müzik dinlemek
- Çok sıcak yemek yemek
- ▲ Güneşe gözlüksüz bakmak

Sembollerle belirtilen davranışların zarar vereceği duyu organları aşağıdakilerin hangisinde doğru verilmiştir?

- |    |       |       |      |
|----|-------|-------|------|
|    | ★     | ■     | ▲    |
| A) | Göz   | Kulak | Dil  |
| B) | Dil   | Göz   | Deri |
| C) | Kulak | Dil   | Göz  |

3.

Duyu Organı	Görevleri	Sağlığı
▲	Dokunma duyusudur. Vücuttaki zararlı maddeleri atmamızı sağlar.	Düzenli banyo yapmalıyız.
●	Koku ve soluk alma organımızdır.	Temiz havada bulunmalıyız.

Verilen tabloda ▲ ve ● sembolleri yerine yazılması gereken duyu organları aşağıdakilerin hangisinde doğru belirtilmiştir?

- |    |      |       |
|----|------|-------|
|    | ▲    | ●     |
| A) | Dil  | Deri  |
| B) | Göz  | Kulak |
| C) | Deri | Burun |

4.

Görme	●	●	Kulak
İşitme	●	●	Deri
Tat alma	●	●	Burun
Dokunma	●	●	Göz
Koklama	●	●	Dil

Duyu organları ile görevleri aşağıdakilerin hangisinde doğru eşleştirilmiştir?

